



---

## Enigme n° 2

version couleur



Placer toutes les balles dans les trois boîtes.

Il doit y avoir autant de balles dans chaque boîte.

# Semaine des Mathématiques

Du 13 au 19 mars 2017

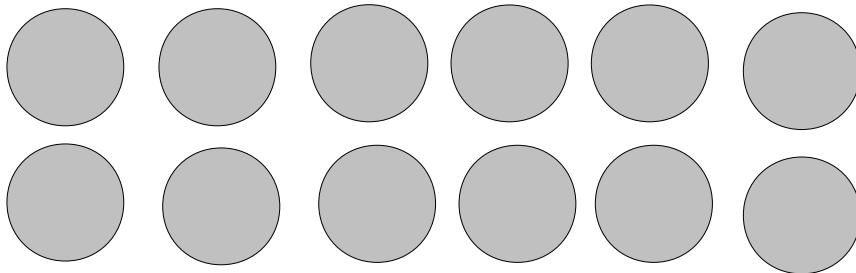


Cycle : 1

Niveau 2

---

## Enigme n° 2

version noir et blanc



Placer toutes les balles dans les trois boîtes.

Il doit y avoir autant de balles dans chaque boîte.

