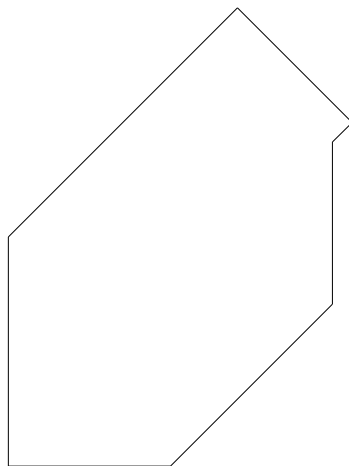
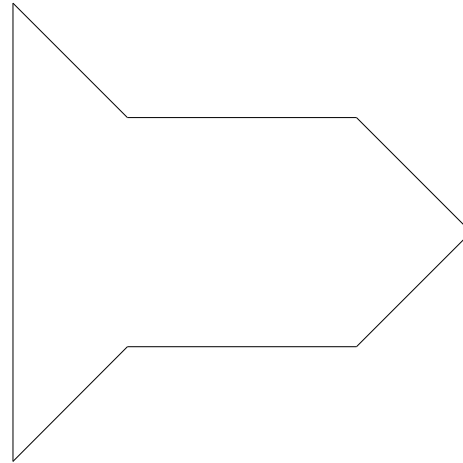



Feuille 2

- 3) Après avoir découpé les triangles de la première feuille, reconstituer les figures ci-dessous et exprimer pour chacune d'elles : l'aire en fonction de « a », le périmètre en fonction de « b » et « c ».



- 4) A l'aide des triangles que tu as en ta possession construis une figure, exprime son aire en fonction de « a » et son périmètre en fonction de « b » et de « c », demande à ton camarade de vérifier tes résultats.