

Défi mathématiques  
CE1  
Défi officiel

Département  
du  
Loiret

Nom de l'école : .....

Nom de l'enseignant(e) : .....

Prénoms des élèves du groupe : .....

**JOKER** : .....

**Numération**

**Géométrie**

**Logique**

**1**

**Le compte est bon**

6 étiquettes nombres sont proposées, tu dois trouver  
en utilisant celles dont tu as besoin.

**899**

Chaque étiquette nombre ne peut être utilisée **qu'une seule fois**.

**5  
points**

Tu **peux** utiliser les opérations suivantes :

**x** **+** **-**

Étiquettes nombres

**100**

**10**

**2**

**3**

**6**

**9**

Réponse :

**2**

**Le compte est bon**

6 étiquettes nombres sont proposées, tu dois trouver  
en utilisant celles dont tu as besoin.

**130**

**15  
points**

Chaque étiquette nombre ne peut être utilisée **qu'une seule fois** .

Tu **peux** utiliser les opérations suivantes :

**x**   **+**   **-**

Étiquettes nombres

**8**

**100**

**2**

**10**

**5**

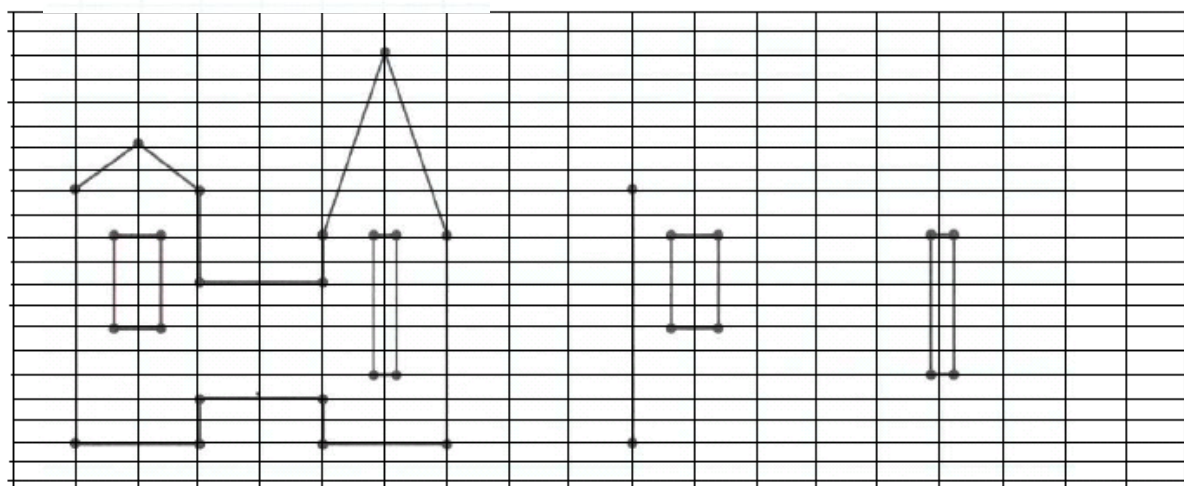
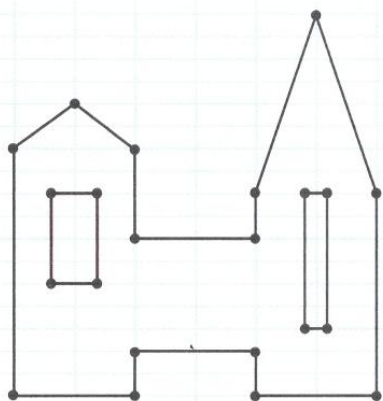
**9**

Réponse :

3

Observe puis complète pour reproduire le château.

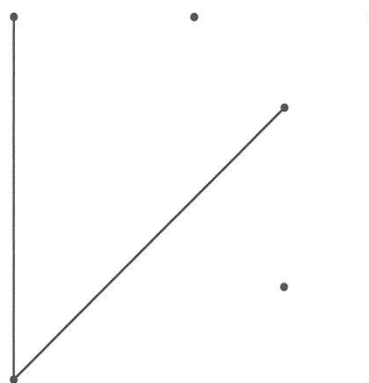
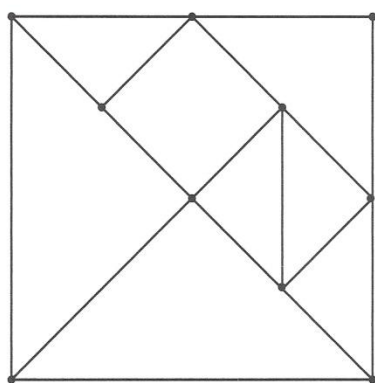
20 points



4

Observe puis complète pour reproduire la figure.

10 points



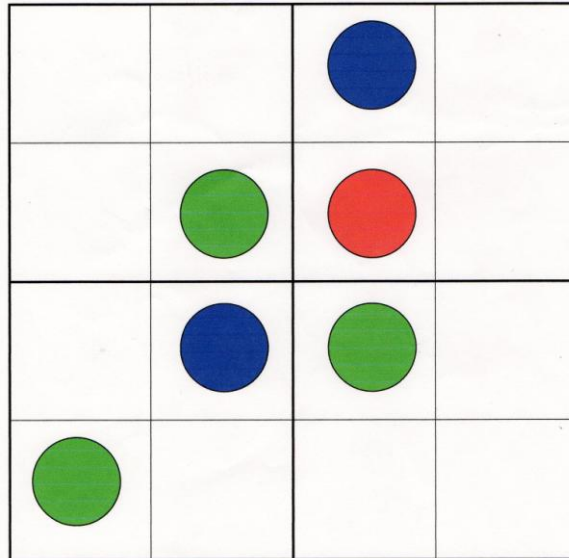
Sudokus

Complétez les grilles.

5

On doit retrouver une pastille de chaque couleur sur chaque ligne et chaque colonne.

8 points



6

On doit retrouver les nombres **1, 2, 3, 4** sur chaque ligne et chaque colonne.

12 points

|          |          |          |          |
|----------|----------|----------|----------|
|          | <b>4</b> |          |          |
| <b>2</b> |          |          | <b>4</b> |
|          |          |          | <b>2</b> |
|          | <b>2</b> | <b>3</b> |          |