

BACCALAURÉAT PROFESSIONNEL
Artisanat et Métiers d'Art
Option Communication Visuelle Pluri Média

SESSION 2023

<p>E1 ÉPREUVE SCIENTIFIQUE ET TECHNIQUE SOUS-ÉPREUVE E11 - UNITÉ 11 ÉTUDE D'UN PRODUIT DE COMMUNICATION</p>

Durée : 3 heures

Coefficient : 3

SUJET

L'usage de la calculatrice ou tout autre matériel est interdit.
Aucun document autorisé.

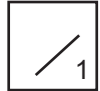
Ce sujet comporte 9 pages numérotées de 1/9 à 9/9,
assurez-vous qu'il est complet.

Vous composerez directement sur le sujet.
Vous devez rendre à la fin de l'épreuve la totalité du sujet dans une copie
d'examen anonymée.

L'évaluation prend en compte :

- le respect des contraintes du dossier ressources ;
- la pertinence de l'analyse technologique, sémantique, culturelle, typographique et graphique ;
- la justesse et la précision des connaissances techniques ;
- la clarté et la cohérence de la méthode ;
- la pertinence des solutions apportées ;
- la qualité de l'argumentation.

BAC PROFESSIONNEL A.M.A. Communication Visuelle Pluri Média	Code : 2306-AMA C 11 1	Session 2023	SUJET
ÉPREUVE E1 - U11	Durée : 3 heures	Coefficient 3	Page 1/9



14. Sur la page Lushopédia **A** du site web France (page 8/10), on perçoit un dysfonctionnement. Identifiez-le et expliquez quel est le problème.

.....

.....

.....

.....

.....

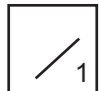
.....

.....

.....

.....

.....



15. La version Japon du site web est présentée (page 9/10). On remarque deux affichages différents **A** et **B**. Précisez comment on peut obtenir techniquement ces changements.

.....

.....

.....

.....

.....

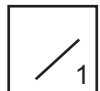
.....

.....

.....

.....

.....

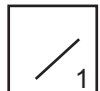


16. Une série d'icônes apparaît sur les pages du site France (page 8/10 **c**).

a) À quoi correspondent-elles ?

.....

.....



b) Que déduisez-vous de la stratégie de communication globale de l'entreprise ?

.....

.....

.....

.....

.....

.....

.....

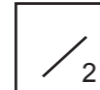
.....

.....

.....

PARTIE B
PROPOSITIONS DE SOLUTIONS

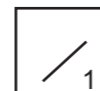
SUR 30 POINTS



B-1 Brochure

1. Après relecture attentive du dossier ressources, veuillez compléter le cahier des charges relatif à la fabrication de la brochure.

- dimensions : mm Xmm
- nombre de pages :
- procédé et mode d'impression :
- support :
- cahiers intérieurs :
- couverture :
- reliure :



2. Vous venez de définir le type de reliure de cette brochure. Quelles sont les précautions à prendre avec le logiciel de mise en page lors de la réalisation du document ?

.....

.....

.....

.....

.....

.....

.....

.....

.....

.....

.....

BAC PROFESSIONNEL A.M.A. Communication Visuelle Pluri Média	Code : 2306-AMA C 11 1	Session 2023	SUJET
ÉPREUVE E1 - U11	Durée : 3 heures	Coefficient 3	Page 6/9

3. Cette brochure est aussi disponible en ligne (page 7/10 **B**).

2

a) Quelles modifications apportez-vous au fichier de mise en page de la brochure qui a été initialement préparé pour l'impression, afin de l'optimiser et de l'exporter pour une diffusion en ligne ?

.....

.....

.....

.....

.....

.....

1

b) Quel format d'enregistrement préconisez-vous pour publier le fichier en ligne? Justifiez votre réponse.

.....

.....

.....

.....

.....

2

c) Quels sont les principaux paramètres d'exportation qui permettent de réduire le poids du fichier et de limiter son temps de chargement ?

.....

.....

.....

.....

.....

.....

.....

.....

.....

.....

4. On vous demande de modifier la mise en forme du sommaire (page 10/10) de **A** vers **B**.

1

a) Nommez la fonction du logiciel de mise en page utilisée pour réaliser cette mise en forme.

.....

.....

1

b) Quelle différence existe-t-il entre la version **A** et la version **B** ?

.....

.....

1

c) Comment procédez-vous pour obtenir le résultat **B** ?

.....

.....

.....

.....

2

d) Un élément est commun aux deux versions : le trait soulignant le titre. Nommez précisément cet objet et indiquez le mode opératoire pour l'obtenir.

.....

.....

.....

.....

1

5. Comment nomme-t-on le document qui sert de validation avant le lancement du tirage ?

.....

.....

1

6. On vous demande de vérifier la double-page **C** (page 10/10). Quelle est la principale erreur ?

.....

.....

.....

2

7. Proposez une solution pour supprimer ce problème.

.....

.....

.....

BAC PROFESSIONNEL A.M.A. Communication Visuelle Pluri Média	Code : 2306-AMA C 11 1	Session 2023	SUJET
ÉPREUVE E1 - U11	Durée : 3 heures	Coefficient 3	Page 7/9

11. On vous demande de préparer des images afin d'actualiser la page d'accueil du site.

2

a) Quelles doivent être les caractéristiques techniques de ces images pour qu'elles soient adaptées à une publication web ?

.....
.....
.....
.....
.....

b) Quels formats d'enregistrement allez-vous utiliser pour préparer :

2

- des photos
- des icônes ou pictogrammes
- des bannières animées

12. On vous demande de préparer un **roll over** pour les icônes figurant sur les pages du site web (page 9/10 **D**).

1

a) Qu'est-ce que cela signifie ?

.....
.....
.....
.....
.....

b) Comment procédez-vous pour préparer ces éléments ?

1

.....
.....
.....
.....
.....
.....
.....
.....

BAC PROFESSIONNEL A.M.A. Communication Visuelle Pluri Média	Code : 2306-AMA C 11 1	Session 2023	SUJET
ÉPREUVE E1 - U11	Durée : 3 heures	Coefficient 3	Page 9/9